

# EMS 2017 – Bericht 24



## Eignungstest für das Medizinstudium in der Schweiz

Bericht über Durchführung und Ergebnisse

**B. Spicher und K.-D. Hänsgen**

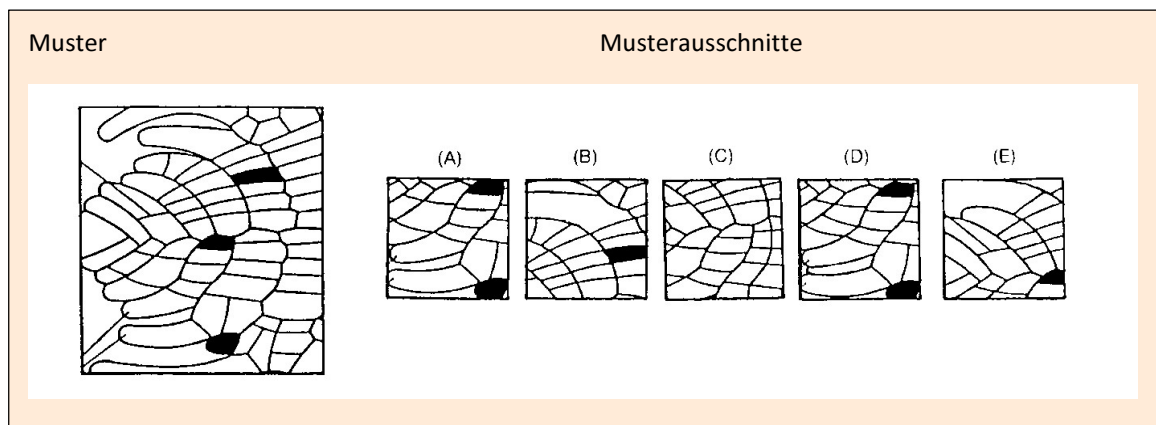
## Beispielaufgaben für die Aufgabengruppen

Nachfolgend wird pro Aufgabengruppe eine Beispielaufgabe dargestellt. So können lediglich die Prinzipien der Aufgabenstruktur verdeutlicht werden. Die Aufgaben unterscheiden sich innerhalb jeder Aufgabengruppe bezüglich des Schwierigkeitsgrades und der Anforderung.

### 1 Muster zuordnen

In dieser Aufgabengruppe wird die Fähigkeit geprüft, Ausschnitte in einem komplexen Bild wieder zu erkennen. Dazu werden pro Aufgabe ein Muster und je fünf Musterausschnitte (A) bis (E) vorgegeben. Die Testteilnehmerin oder der Testteilnehmer soll herausfinden, welcher dieser fünf Musterausschnitte an irgendeiner beliebigen Stelle deckungsgleich und vollständig auf das Muster gelegt werden kann.

Ein Beispiel dazu:



In den meisten Aufgaben dieser Art heben sich die vier nicht deckungsgleichen Musterausschnitte dadurch vom Muster ab, dass Details entweder hinzugefügt oder weggelassen sind. Zugleich stellt diese Aufgabengruppe Anforderungen an die Schnelligkeit der Bearbeitung.

In durchschnittlich 55 Sekunden je Aufgabe muss die Testperson die richtige Lösung herausgefunden haben, dass beispielsweise in der obigen Aufgabe nur der Musterausschnitt (A) deckungsgleich mit einem Teil des Musters ist, und zwar in dessen unterem Bereich, etwa in der Mitte.

### 2 Medizinisch-naturwissenschaftliches Grundverständnis

Hier wird das Verständnis für Fragen der Medizin und der Naturwissenschaften geprüft. Wichtig für das Verständnis dieser Textpassage ist, ob daraus bestimmte logische Schlüsse gezogen werden können. Alle Fakten, die für die Beantwortung der Aufgabe notwendig sind, stehen im Text – spezielles medizinisches Vorwissen ist nicht erforderlich. Dieses wichtige Prinzip findet sich bei allen Aufgabengruppen und ist verantwortlich für die geringe Trainierbarkeit der Aufgabenlösung.

Im Kindesalter kann das Zentrum für Sprache, Spracherwerb und Sprachverständnis noch in der linken oder in der rechten Hälfte (Hemisphäre) des Gehirns in einem umschriebenen Hirnrindengebiet (sog. Sprachregion) angelegt werden. Spätestens im zwölften Lebensjahr sind die sprachlichen Fähigkeiten jedoch fest in einer der beiden Hemisphären verankert, und zwar bei den Rechtshändern in der Regel links, bei den Linkshändern in der Mehrzahl ebenfalls links, zum Teil aber auch rechts; die korrespondierende Region der Gegenseite hat zu diesem Zeitpunkt bereits andere Funktionen fest übernommen. Welche der nachfolgenden Aussagen lässt bzw. lassen sich aus diesen Informationen ableiten?

Bei irreversiblen Hirnrindenverletzungen im Bereich der sogenannten Sprachregion der linken Hemisphäre...

- I. kommt es bei erwachsenen Linkshändern in der Regel zu keinen wesentlichen Sprachstörungen.
  - II. kommt es bei einem Vorschulkind in der Regel zu einer bleibenden Unfähigkeit, die Muttersprache wieder zu erlernen.
  - III. ist bei zwanzigjährigen Rechtshändern die Fähigkeit, eine Sprache zu erlernen, in der Regel verloren gegangen.
- (A) Nur Ausfall I ist zu erwarten.  
(B) Nur Ausfall II ist zu erwarten.  
(C) Nur Ausfall III ist zu erwarten.  
(D) Nur die Ausfälle I und III sind zu erwarten.  
(E) Nur die Ausfälle II und III sind zu erwarten.

Bei diesem Aufgabentyp folgen nach der Schilderung des Sachverhalts in der Regel drei oder fünf Aussagen in Form von Behauptungen. Die Testperson muss sich dabei entscheiden, ob sich die Aussagen aus den im Aufgabentext enthaltenen Informationen ableiten lassen. Dazu sind keine speziellen Sachkenntnisse erforderlich. Die korrekte Beurteilung der einzelnen Aussagen setzt das Verstehen des Sachverhalts voraus sowie die Fähigkeit, Schlussfolgerungen aus den im Text enthaltenen Informationen zu ziehen. Konkret lässt sich die Aufgabe, unter Berücksichtigung des unterstrichenen Textes, folgendermassen lösen:

- I. Da bei der Mehrzahl der Linkshänder die Sprachregion in der linken Hemisphäre liegt, müssen sie also mit einer Sprachstörung rechnen, weshalb Aussage I falsch ist.
- II. Da es im Kindesalter noch offen ist, in welcher Hälfte des Gehirns die Sprachregion angelegt wird, besteht für ein Vorschulkind immer noch die Möglichkeit, die Muttersprache wieder zu erlernen. Die Sprachregion wird dann in der rechten Hälfte der Hemisphäre angelegt. Somit ist Aussage II ebenfalls falsch.
- III. Da spätestens im zwölften Lebensjahr die Sprachregion bei Rechtshändern in der Regel fest in der linken Hälfte des Gehirns liegt, ist bei zwanzigjährigen Rechtshändern zu erwarten, dass sie die Fähigkeit, eine Sprache zu erlernen, verloren haben. Die Aussage III ist darum richtig.


Nach dieser Analyse des Textes ist es offensichtlich, dass die Antwort (C) richtig ist.

### 3 Schlauchfiguren

Die folgenden Aufgaben prüfen das räumliche Vorstellungsvermögen – eine Funktion, die beispielsweise für das Verständnis von Röntgenbildern wichtig ist. Während des Studiums werden zahlreiche eigentlich dreidimensional zu betrachtende Strukturen und Vorgänge in zweidimensionalen Abbildungen vermittelt.


Jede Aufgabe besteht aus zwei Abbildungen eines durchsichtigen Würfels, in dem sich ein, zwei oder drei Kabel befinden. Die erste Abbildung (links) zeigt stets die Vorderansicht des Würfels; auf dem rechten Bild daneben, in welchem derselbe Würfel noch einmal abgebildet ist, soll die Testteilnehmerin oder der Testteilnehmer herausfinden, ob die Abbildung die Ansicht von rechts (r), links (l), unten (u), oben (o) oder von hinten (h) zeigt.

1)



Hier sehen Sie den Würfel von vorne!

(A): r  
(B): l  
(C): u  
(D): o  
(E): h



Hier sehen Sie den Würfel von ...?  
(hinten!)

### 4 Quantitative und formale Probleme

Mit Hilfe dieser Aufgabengruppen wird die Fähigkeit überprüft, im Rahmen medizinischer und naturwissenschaftlicher Fragestellungen mit Zahlen, Größen, Einheiten und Formeln richtig umzugehen. Diese Anforderung dürfte für mehrere Fächer des Grundlagenstudiums der Medizin bedeutsam sein.

Zum Beispiel:

Eine Broteinheit (BE) ist definiert als diejenige Nahrungsmenge in Gramm, die 12 Gramm Kohlenhydrate enthält. Bei der Verbrennung von 1 g Kohlenhydraten im Organismus werden 16 Kilojoule (kJ) an Energie frei. Ein Patient, der auf Diät gesetzt ist, soll pro Tag 4800 kJ zu sich nehmen, ein Fünftel davon in Kohlenhydraten.

Wie viele BE sind dies täglich?

- (A) 60 BE
- (B) 25 BE
- (C) 6 BE
- (D) 5 BE
- (E) 0,5 BE

Bei solchen Fragen werden die Kenntnisse der Mittelstufen-Mathematik, nicht jedoch Lerninhalte vorausgesetzt. Der Patient soll ein Fünftel von 4800 kJ in Kohlehydraten zu sich nehmen, das sind also 960 kJ. Dividiert man diese Zahl durch 16, so erhält man die Anzahl g Kohlehydrate, nämlich 60 g, die es braucht, damit 960 kJ an Energie frei werden. Umgerechnet in Broteinheiten müssen die 60 g Kohlehydrate noch einmal durch 12 dividiert werden und das gibt 5 BE. Somit ist bei dieser Frage die Antwort (D) richtig.

## 5 Konzentriertes und sorgfältiges Arbeiten

Nachfolgend eine Beispielinstruktion aus der Test-Info:

Mit diesem Test soll Ihre Fähigkeit, rasch, sorgfältig und konzentriert zu arbeiten erfasst werden. Sie sehen nachfolgend ein Blatt mit 40 Zeilen, die aus je 40 Buchstaben u und m gebildet werden.

Ihre Aufgabe ist es, zeilenweise jedes u zu markieren, VOR  
dem in der Zeile unmittelbar ein m steht:

m ✗

Sie dürfen kein u markieren, vor dem kein m steht. Sie dürfen natürlich auch kein m markieren. Beides wären Fehler. Nachfolgend sehen Sie ein richtig bearbeitetes Beispiel:

m ✗ m ✗ m ✗ u u m m ✗ m ✗ u u u m ✗ m m

Es werden Zeichen vorgegeben und bestimmte Zeichen sind zu markieren. Dies kann ein Merkmal eines einzelnen Zeichens sein (ein b mit 2 Strichen) oder eine Zeichenfolge (wenn ein p auf ein q folgt). Bei diesem Test hatte sich gezeigt, dass exzessives Üben zu verbesserten Leistungen führt. Da ein „Fleisstest“ nicht intendiert ist, werden seit 2004 die Zeichen und die Regel vor dem Test nicht mehr bekannt gegeben. Übungseffekte haben dadurch nachweislich einen geringen Einfluss.

## 6 Textverständnis

Mit Hilfe dieser Aufgabengruppe wird die Fähigkeit geprüft, umfangreiches und komplexes Textmaterial aufzunehmen und zu verarbeiten. Die Texte sind inhaltlich und grammatikalisch anspruchsvoll – sie können unter Nutzung von Notizen und Unterstreichungen erarbeitet werden. Die Abfrage erfolgt wiederum über die Auswahl einer richtigen oder falschen Aussage aus fünf vorgegebenen Aussagen. Diese Texte waren vor allem beim Übersetzen anspruchsvoll – zur Schwierigkeit gehören nicht nur die Inhalte, sondern auch die Satzstruktur.

Ein Beispiel:

Zu den Aufgaben der Schilddrüse gehören Bildung, Speicherung und Freisetzung der jodhaltigen Hormone Trijodthyronin (T3) und Thyroxin (T4). In der Schilddrüse befinden sich zahlreiche Hohlräume, Follikel genannt, deren Wände von einer Schicht sogenannter Epithelzellen gebildet werden. Diese Follikel sind mit einer Substanz gefüllt, in der die Hormone T3 und T4 als inaktive Speicherformen enthalten sind. Beim Menschen ist in den Follikeln so viel T3 und T4 gespeichert, dass der Organismus damit für etwa 10 Monate versorgt werden kann.

Das für die Hormonbildung erforderliche Jod entstammt der Nahrung und wird von den Epithelzellen als Jodid aus dem Blut aufgenommen. Die Jodidaufnahme erfolgt an der äusseren Zellmembran der Epithelzellen durch eine sogenannte Jodpumpe. Diese wird durch ein Hormon aus der Hirnanhangsdrüse, das TSH, stimuliert und kann pharmakologisch durch die Gabe von Perchlorat gehemmt werden. Ferner gibt es erbliche Schilddrüsenerkrankungen, bei deren Vorliegen die Jodpumpe nicht funktioniert.

Bei Gesunden wird das in die Epithelzellen aufgenommene Jodid im nächsten Schritt unter dem Einfluss eines Enzyms in freies Jod umgewandelt und in die Follikel abgegeben. Die Aktivität dieses Enzyms kann ebenfalls pharmakologisch gehemmt werden.

Die letzten Schritte der Hormonbildung finden in den Follikeln, also ausserhalb der einzelnen Epithelzellen, statt. In dort vorhandene sogenannte Tyrosin-Reste (des Thyreoglobulins) wird zunächst ein Jodatombau eingebaut. So entstehen Monojodtyrosin-Reste (MIT), von denen ein Teil durch die Bindung je eines weiteren Jodatoms in Dijodtyrosin-Reste (DIT) umgewandelt wird. Durch die Verknüpfung von je zwei DIT-Resten entsteht schliesslich T4, während aus der Verbindung je eines MIT-Restes mit einem DIT-Rest T3 hervorgeht. T3 und T4 werden dann in den Follikeln gespeichert und bei Bedarf über die Epithelzellen ins Blut freigesetzt.

Diese Freisetzung von T3 und T4 ins Blut (Sekretion) wird über die Hirnanhangsdrüse und den Hypothalamus, einen Teil des Zwischenhirns, gesteuert: Das erwähnte Hormon TSH stimuliert ausser der Bildung auch die Sekretion von T3 und T4; es ist hinsichtlich seiner eigenen Sekretionsrate jedoch abhängig von der Stimulation durch das hypothalamische Hormon TRH. Die TRH-Sekretion wiederum wird z.B. durch Kälte stimuliert, während Wärme hemmend wirken kann. Neben diesen übergeordneten Steuerungsmechanismen existiert noch ein sogenannter Rückkoppelungsmechanismus: Eine hohe Konzentration von T3 und T4 im Blut hemmt die TSH- und die TRH-Sekretion, eine niedrige Konzentration stimuliert sie. Bei den an der Steuerung der Schilddrüsenhormonsekretion beteiligten Arealen von Hirnanhangsdrüse und Hypothalamus können krankheitsbedingte Störungen auftreten, die zu einer Über- oder Unterfunktion der Schilddrüse führen.

Eine der Hauptwirkungen von T3 und T4 ist die Beeinflussung des Energieumsatzes durch eine Steigerung des Sauerstoffverbrauchs in stoffwechselaktiven Organen. Entsprechend senkt eine zu niedrige Konzentration der beiden Hormone im Blut (Hypothyreose) den Energieumsatz bzw. die Stoffwechselaktivität unter den normalen Wert, während bei einer zu hohen Konzentration (Hyperthyreose) die Stoffwechselaktivität gesteigert wird. Die Hormone T3 und T4 können ebenso wie TSH und TRH für diagnostische und therapeutische Zwecke synthetisch hergestellt werden.

Auf einen solchen Text folgen Fragen, die sich ausschliesslich auf im Text vorhandene Inhalte beziehen; eine Frage mit niedrigem Schwierigkeitsgrad ist zum Beispiel so formuliert:

Welcher der folgenden Vorgänge gehört nicht zu den im Text beschriebenen Schritten, die zur Bildung von T3 führen?

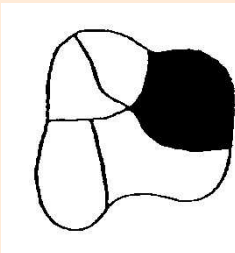
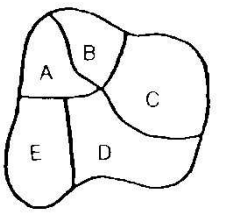
- (A) Transport von Jod aus den Epithelzellen in die Follikel
- (B) Umwandlung von Jod in Jodid in den Follikeln
- (C) Transport von Jodid aus dem Blut in die Epithelzellen
- (D) Verknüpfung von MIT- und DIT-Resten in den Follikeln
- (E) Verknüpfung von Jod und Tyrosin-Resten in den Follikeln

Für die Beantwortung dieser Frage ist das Verständnis der im obigen Text unterstrichenen Stellen wichtig (im Original sind selbstverständlich keine Hervorhebungen). Der Text sagt nichts über eine Umwandlung von Jod in Jodid in den Follikeln aus, und auch der umgekehrte Prozess, die Umwandlung von Jodid in Jod, findet nicht in den Follikeln statt, sondern in den Epithelzellen. Somit gehört der Vorgang (B) nicht zu den vom Text beschriebenen Schritten, die zur Bildung von T3 führen.

## 7 Figuren lernen

Für beide nachfolgenden Gedächtnistests wird nach der Mittagspause das Material zum Einprägen ausgeteilt. Vor der Abfrage des Gelernten wird die Aufgabengruppe „Textverständnis“ bearbeitet, damit liegt die Zeit des Behaltens der gelernten Inhalte über einer Stunde. Gedächtnisleistungen sind wichtige Voraussetzungen für Studienerfolg.

Die Aufgabengruppe „Figuren lernen“ prüft, wie gut man sich Einzelheiten von Gegenständen einprägen und merken kann.

Gezeigte Figur zum Einprägen	Gezeigte Figur beim Abfragen
	

Die Testperson hat vier Minuten Zeit, um sich 20 solcher Figuren einschliesslich der Lage der schwarzen Flächen einzuprägen. Nach ca. einer Stunde muss sie angeben können, welcher Teil der Abbildung geschwärzt war, und dies direkt auf dem Antwortbogen eintragen. Die Lösung ist natürlich C.

## 8 Fakten lernen

Analog dem Prinzip beim „Figuren lernen“ sollen hier Fakten eingeprägt und behalten werden, die ebenfalls nach der gleichen Zwischenzeit abgefragt werden. Dabei werden 15 Patienten vorgestellt, von denen jeweils der Name, die Altersgruppe, Beruf und Geschlecht, ein weiteres Beschreibungsmerkmal (z.B. Familienstand) sowie die Diagnose angegeben wird. Ein Beispiel für eine derartige Fallbeschreibung ist:

Lemke, 30 Jahre, Dachdecker, ledig, Schädelbasisbruch Eine Frage zum obigen Beispiel könnte z.B. lauten:

Der Patient mit dem Schädelbasisbruch ist von Beruf... (A) Installateur  
(B) Lehrer  
(C) Dachdecker  
(D) Handelsvertreter  
(E) Physiker

## 9 Diagramme und Tabellen

Mit dieser Aufgabengruppe wird die Fähigkeit geprüft, Diagramme und Tabellen richtig zu analysieren und zu interpretieren. In dieser Form werden während des Studiums zahlreiche Zusammenhänge vermittelt. Eine Aufgabe dazu:

Die folgende Tabelle beschreibt die Zusammensetzung und den Energiegehalt von vier verschiedenen Milcharten. Unter Energiegehalt der Milch verstehen wir dabei die Energiemenge, gemessen in Kilojoule (kJ), welche 100 Gramm (g) Milch dem Organismus ihres Konsumenten liefern können.

Milchart	Eiweiss	Fett	Milchzucker	Salze	Energiegehalt
menschliche Muttermilch	1,2 g	4,0 g	7,0 g	0,25 g	294 kJ
Vollmilch	3,5 g	3,5 g	4,5 g	0,75 g	273 kJ
Magermilch	3,3 g	0,5 g	4,5 g	0,75 g	160 kJ
Buttermilch	3,0 g	0,5 g	3,0 g	0,55 g	110 kJ

Welche Aussage lässt sich aus den gegebenen Informationen nicht ableiten?

- (A) Menschliche Muttermilch enthält mehr als doppelt soviel Milchzucker wie Buttermilch.
- (B) Vollmilch enthält im Vergleich zur menschlichen Muttermilch etwa die dreifache Menge an Salzen und Eiweiss.
- (C) Zur Aufnahme der gleichen Energiemenge muss ein Säugling fast dreimal soviel Buttermilch wie Muttermilch trinken.
- (D) Der Unterschied zwischen Magermilch und Vollmilch ist bei der Mehrzahl der aufgeführten Merkmale geringer als der Unterschied zwischen Magermilch und Buttermilch.
- (E) Der Eiweissgehalt der Milch ist für den Energiegehalt von entscheidender Bedeutung.



Wie bei den Aufgabengruppen „Medizinisch-naturwissenschaftliches Grundverständnis“ und „Textverständnis“ sind auch hier zur Lösung dieser Aufgabe keine speziellen naturwissenschaftlichen, medizinischen oder statistischen Kenntnisse erforderlich. Die richtige Lösung lässt sich allein aus der jeweils graphisch oder tabellarisch dargebotenen Information und dem zugehörigen Aufgabentext ableiten. Aus den angegebenen Werten ist kein systematischer Zusammenhang zwischen Eiweiß- und Energiegehalt ableitbar, so dass die Aussage (E) nicht abgeleitet werden kann.

Diese Beispielaufgaben aus den zehn Aufgabengruppen zeigen, dass es hier um Problemstellungen geht, die auch aus einem Lehrbuch des Grundstudiums Medizin stammen könnten. In den Aufgabenstellungen sind alle Informationen enthalten, die man zum Lösen benötigt. Das Problem ist zunächst zu erkennen, die Information genau zu analysieren und die richtige Lösung zu finden.